
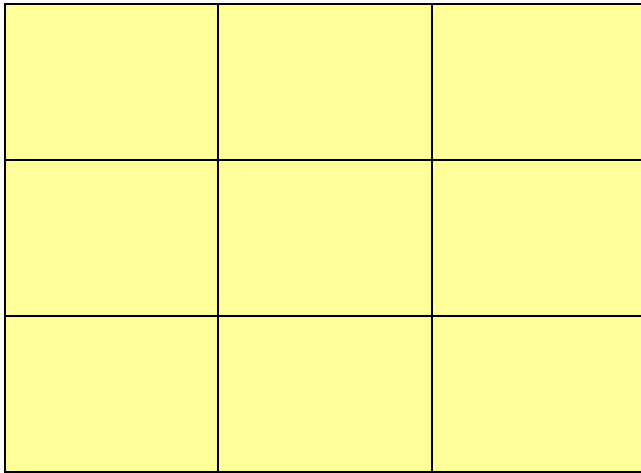


ตารางรูปเรขาคณิต 3 × 3 สีนี้นอก

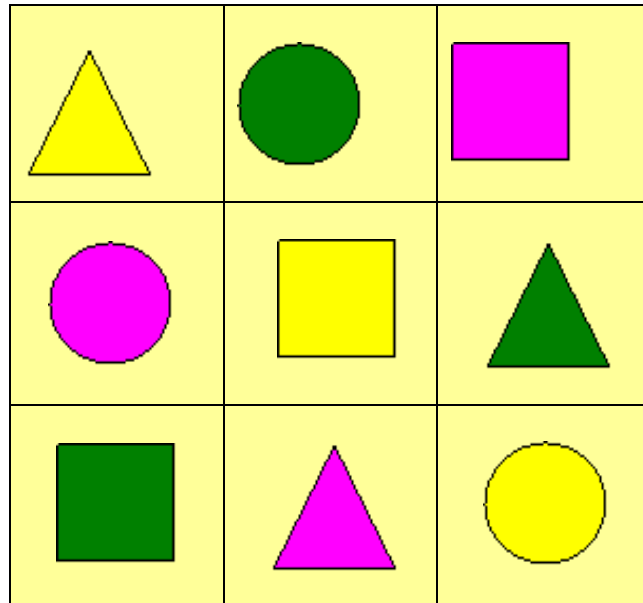
กติกา : จับรูปเรขาคณิตทางขวามือทั้งหมดไปวางลงในตาราง 3 × 3 ทางซ้ายมือ โดยที่

ใน แนวตั้ง หรือ แนวนอน แต่ละแนวต้องไม่มีรูปเรขาคณิตที่ซ้ำแบบกัน

ใน แนวตั้ง หรือ แนวนอน แต่ละแนวต้องไม่มีรูปเรขาคณิตที่มีสีซ้ำกัน



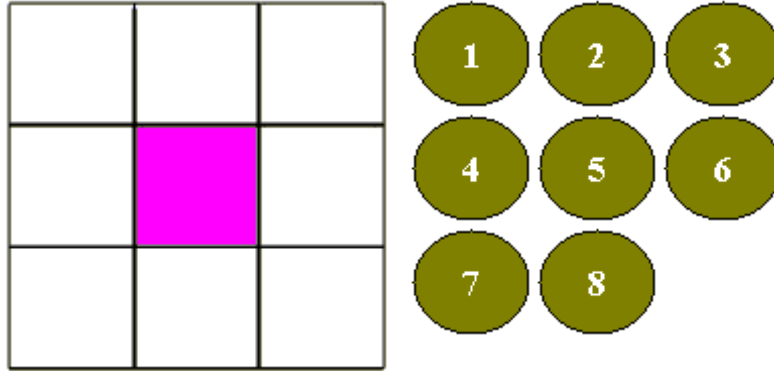
ເລືອກ



จัตุรัสกลกลาง

กติกา: จับตัวเลข 1 - 8 ทางขวามือทั้งหมดไปวางลงในตาราง 3×3 ทางซ้ายมือ โดยให้

ผลบวกของจำนวนใน แถวตั้ง, แถวนอน แต่ละแถวมีค่าเท่ากับ 13



เฉลย

จัดกลุ่ม

$$832 = 13$$

$$841 = 13$$

$$751 = 13$$

$$742 = 13$$

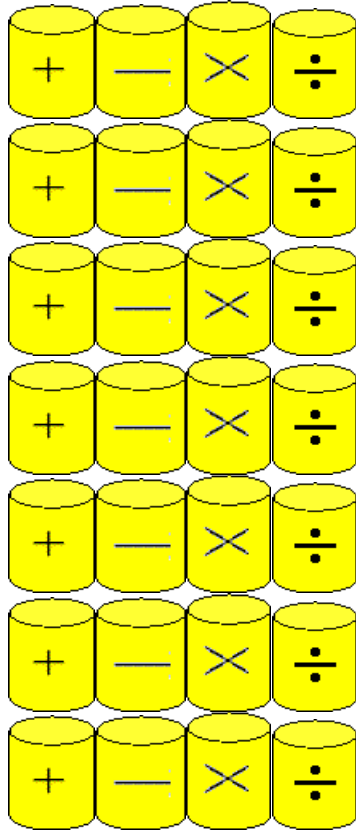
$$652 = 13$$

$$643 = 13$$

4	3	6
8		2
1	7	5






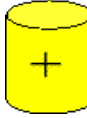


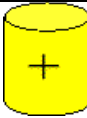

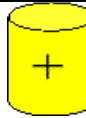
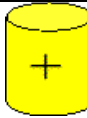
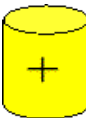



ตารางเลขปริศนา 7 x 7

กติกา: ให้ใส่เครื่องหมาย + - \times \div จากทางขวามือมาวางในตารางทางซ้ายมือเพื่อให้ผลลัพธ์ของแต่ละแถวทั้งแนวตั้ง แนวนอนเป็นจริง

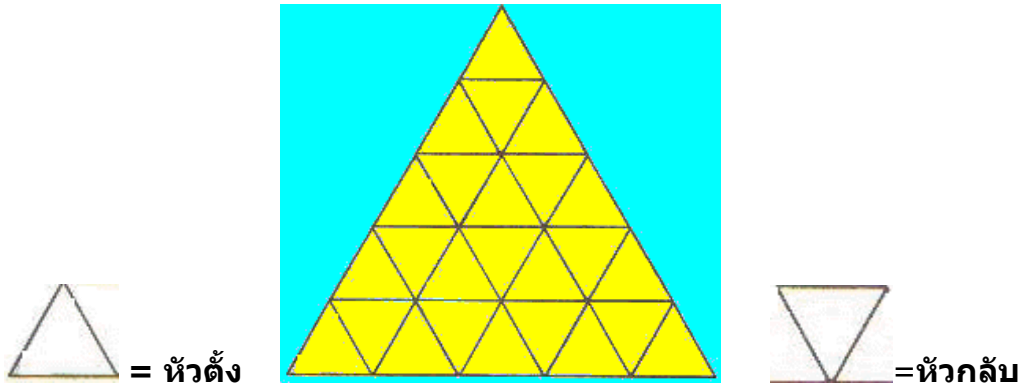


3		4		6 = 2
2		3		4 = 10
7		6		2 = 11
=		=		=
13		6		4 = 23

លេខ

3		4		6	=	2
						
2		3		4	=	10
						
7		6		2	=	11
=		=		=		=
13		6		4	=	23

สามเหลี่ยมแสนกล



จากรูปข้างบนจงหาคำตอบที่ถูกต้องแล้วเติมลงในช่องว่างแล้วตรวจคำตอบ

1. มีรูปสามเหลี่ยมฐาน 1 หน่วย หัวตั้ง กี่รูป	= <input type="text"/> รูป
2. มีรูปสามเหลี่ยมฐาน 1 หน่วย หัวกลับ กี่รูป	= <input type="text"/> รูป
3. มีรูปสามเหลี่ยมฐาน 2 หน่วย หัวตั้ง กี่รูป	= <input type="text"/> รูป
4. มีรูปสามเหลี่ยมฐาน 2 หน่วย หัวกลับ กี่รูป	= <input type="text"/> รูป
5. มีรูปสามเหลี่ยมฐาน 3 หน่วย หัวตั้ง กี่รูป	= <input type="text"/> รูป
6. มีรูปสามเหลี่ยมฐาน 4 หน่วย หัวตั้ง กี่รูป	= <input type="text"/> รูป
7. มีรูปสามเหลี่ยมฐาน 5 หน่วย หัวตั้ง กี่รูป	= <input type="text"/> รูป
8. มีรูปสามเหลี่ยม ทั้งหมด กี่รูป	= <input type="text"/> รูป