



เฉลยสอบวัดความรู้ ปลายภาคเรียน

รายวิชา ง 41213 คอมพิวเตอร์เพื่อการผลิตสื่อ ร.ร. สาธิตฯมศว. ปทุมวัน

เวลา 40 นาที

คะแนนเต็ม

30

คะแนน

คิดเป็น 20%

คำอธิบาย

1. ห้ามเปิดดู หรือ ทำข้อสอบ ก่อนครุอนุญาติให้ทำข้อสอบ
2. ข้อสอบมี 6 หน้า
3. ให้ตอบลงในกระดาษข้อสอบ ซึ่งมี 2 วิธีคือ การวงกลม และ การเติมคำ
4. ห้ามเปิดคอมพิวเตอร์ ขณะทำการสอบ มิฉะนั้น จะถูกตัดคะแนนการสอบ เหลือ 0 ทันที
5. การทุจริต ไม่ซื่อสัตย์ถือเป็น ความผิดร้ายแรง หากกระทำ ให้ตักวิชานี้ทันที
6. อนุญาติให้ใช้ ปากกา น้ำเงิน หรือ ดำ เท่านั้น
7. กรอก เลขประจำตัว มุมบนขวา ทุกๆหน้าของข้อสอบ

“ขอให้นักเรียนทุกคน โชคดี เป็นคนดีของพ่อแม่ ของพี่น้อง และ สังคม จงอย่ายอมแพ้ในอุปสรรค แต่จงคิดว่านั่นเป็นเพียงบททดสอบ เพื่อให้เราก้าวหน้า พัฒนารุ่งขึ้น”

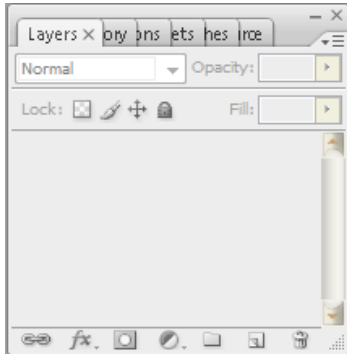
ชื่อ.....นามสกุล.....เลขประจำตัว.....

เลขที่.....ชั้น.....

คำสั่ง ให้ วงกลม หัวข้อที่ถูกที่สุด หรือ เติมคำ ในช่องว่างให้ถูกต้อง
คะแนนเต็ม คะแนน คิดเป็น 20%

1. จากรูป เรียกส่วนนี้ว่า อะไร

(1 คะแนน)



ก. Tool Box

ข. Option Bar

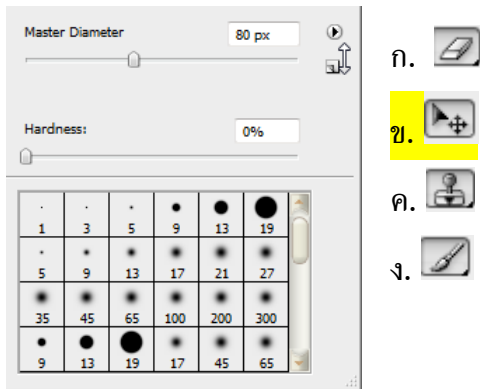
ค. Palette

ง. Panel

2. เครื่องมือ  เรียกว่า Gradient Tool
มีไว้สำหรับ ทำการไล่สี

(2 คะแนน)

3. จากรูป **ไม้** เป็น Option ของเครื่องมือใด (2 คะแนน)



4. หากต้องการ Zoom ภาพไปใกล้ๆ เพื่อเก็บรายละเอียด (1 คะแนน)

เราสามารถใช้ Key ลัด ได้ คือ.....CTRL + +.....

5. Ctrl + D ใช้สำหรับยกเลิก Selection..... (1 คะแนน)

ใช้คำตอบต่อไปนี้ ตอบคำถามข้อ 6 - 11 โดยเติมตัวอักษร a,b,c,d,e,f,g

a. RGB	e. TIF
b. CMYK	f. PNG
c. LAB	g. PSD

6. หมึกเครื่องปรี้น Inkjet สี ควรใช้ MODE สี แบบB... (1 คะแนน)

7. ภาพที่สามารถเคลื่อนไหวได้GIF (ให้ฟรี โจทย์ผิด)

8. สกุลไฟล์หลักของ Photoshop คือ.....G..... (1 คะแนน)

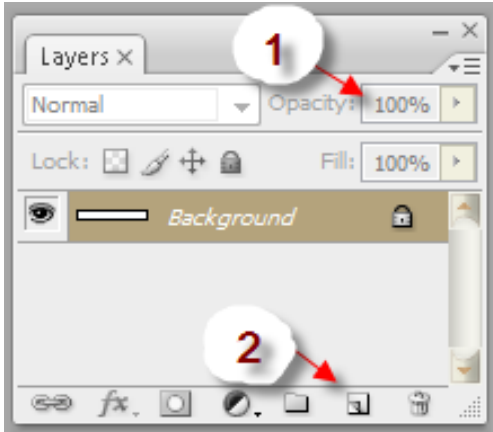
9.ภาพใช้ใน PowerPoint ควรปรับ Mode สีเป็น.....A..... (1 คะแนน)

10. ไฟล์ที่มีคุณสมบัติ Interlaced คือF.... (1 คะแนน)

11. ภาพที่สามารถใช้ได้ทั้ง Mac และ Windows คือ.....E... (1 คะแนน)

12. ค่า Resolution ที่เหมาะสมกับการออกแบบเพื่อผลิตสื่อ (2 คะแนน)
ปกหนังสือ วารสาร ควรเป็นเท่าไร300.....มีหน่วยเป็น.....Pixel/Inches.....

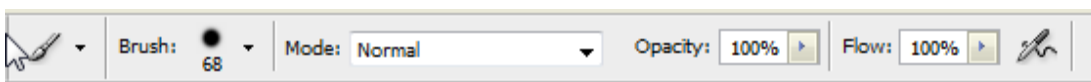
13. (3 คะแนน)



เครื่องมือ หมายเลข 2 มีไว้เพื่อ.....สร้าง Layer ใหม่.....

หากมีการปรับค่า หมายเลข 1 ให้น้อยลง ลักษณะของภาพจะมีการเปลี่ยนแปลง
คือ.....ภาพจะจางลง.....

14. จากรูป เรียกส่วนนี้ว่า อะไร (1 คะแนน)



ก. Tool Box

ข. Option Bar

ค. Palette

ง. Panel

15. จากรูป เรียกส่วนนี้ว่า อะไร (1 คะแนน)



ก. Tool Box

ข. Option Bar

ค. Palette

ง. Panel

16. จากรูป มีการใช้ Layer Style อะไรบ้าง (2 คะแนน)



ก. Inner Shadow , Outer Glow

ข. Outer Glow , Drop Shadow

ค. Bevel and Emboss ,Inner Shadow

ง. Bevel and Emboss ,Drop Shadow

17. หากต้องการลบ ภาพบริเวณที่มีสีเดียวกัน ควรใช้เครื่องมือในข้อใด ดีที่สุด (1 คะแนน)

ก. Eraser Tool E

ข. Background Eraser Tool E

ค. Magic Eraser Tool E

ง. Polygonal Lasso Tool L

18. หากต้องการลบ พื้นหลัง รูปนี้ โดยใช้ Selection ควรเลือกใช้ Selection แบบใด (1 คะแนน)



ก. Marquee Tool

ข. Quick Selection Tool

ค. Lasso Tool

ง. Polygonal Tool

19. ประเภทของรูปภาพ มี 2 ประเภท คือ.....Vector.....และ.....Bitmap..... (2 คะแนน)

20. การเปลี่ยนสีของรูปภาพทั้งหมด ไม่ ควรใช้คำสั่งในข้อใด (1 คะแนน)

ก. Brightness/Contrast

ข. Hue/Saturation

ค. Ctrl + U

ง. Liquify

21. นักเรียนคิดว่า Photoshop สามารถนำไปผลิตสื่ออะไรได้บ้าง เพราะอะไร ยกตัวอย่าง 3 ตัวอย่าง

พร้อมอธิบายเหตุผลประกอบ (3 คะแนน)

1)สื่อ.....เพราะ.....

2)สื่อ.....เพราะ.....

3)สื่อ.....เพราะ.....